
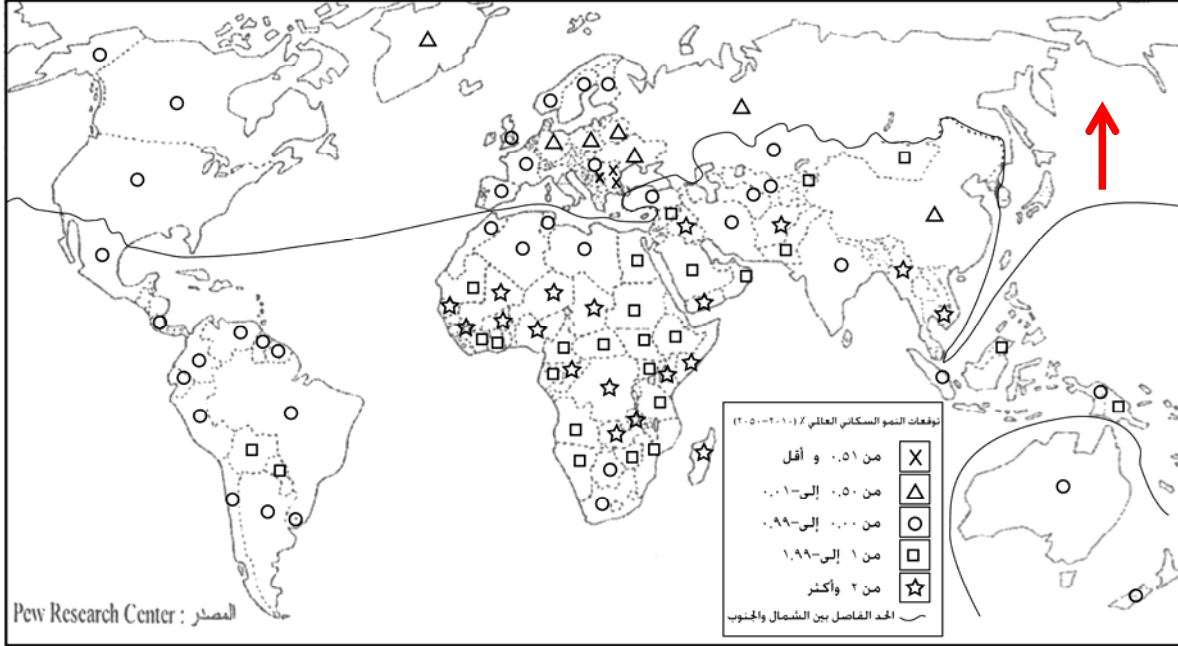


المادة: الجغرافيا الشهادة: الثانوية العامة الفرع: العلوم العامة/ علوم الحياة والاجتماع والاقتصاد نموذج رقم -1- المدة: ساعة واحدة	الهيئة الأكاديمية المشتركة قسم: الاجتماعيات	 المركز التربوي للبحوث والإنماء
---	--	---

نموذج مسابقة (يراعي تعليق الدروس والتوصيف المعدل للعام الدراسي 2017 - 2016 وحتى صدور المناهج المطورة)  
 المستند رقم (1)



المستند رقم (٢)

أكبر عشر دول منتجة للنفط في العالم		أكبر عشر دول مصدرة للنفط في العالم	
الكمية (مليون برميل يومياً)	الدولة	الكمية (مليون برميل يومياً)	الدولة
٤,١٦٤	الولايات المتحدة	١,٢١٥	إيران
٢,٥٢٢	المكسيك	١,٢٧١	المكسيك
٢,٧٩٩	فنزويلا	١,٦٦٩	أنغولا
٢,٧٩٦	الإمارات	١,٩٣٧	فنزويلا
٢,٩٢٤	الكويت	٢,٠٥٨	الكويت
٩,٦٣٧	السعودية	٢,١٩٣	نيجيريا
١٠,١٤٦	روسيا	٢,٣٩٠	العراق
٧,٤٤١	الصين	٢,٧٠١	الإمارات
٣,٥٧٥	إيران	٤,٧١٠	روسيا
٢,٩٧٩	العراق	٧,٥٧١	السعودية

المصدر: الأوبك عام ٢٠١٣

المستند رقم (٣)

بنغلادش... الثانية عالمياً بتصدير الملابس.  
 يشكل قطاع صناعة الملابس وتصديره في بنغلادش القطاع الإقتصادي الأكبر في البلاد، سواء لجهة عدد العاملين فيه أو لجهة ما يدره من عائدات والتي تصل الى نحو ٨٠% من العائدات الإجمالية للصادرات. ومن ناحية ثانية، تحتل بنغلادش الموقع الثاني عالمياً بعد الصين في قائمة البلدان المصدرة للملابس، علماً بأن ٦٠% من هذه الصادرات تتجه نحو أوروبا و ٢٥% منها تتجه نحو الولايات المتحدة.

وعلى الرغم من أن المصانع في بنغلاديش تكسو العالم وتجنّي شركات العلامات التجارية المعروفة في عالم الأزياء من ورائها ثروات طائلة، فإن ما يجري فيها من هضم لحقوق العاملين، وما يسودها من أوضاع بائسة يكشف الجانب المظلم من قصة صناعة النسيج والملابس في دولة ذات الكثافة السكانية الأعلى في العالم. وهذه القصة التي لم يفتح العالم عيونه على تفاصيلها إلا عقب حادثتين مأساويتين، أدت الأولى إلى مقتل ١١٢٩ عاملاً وعاملة ممن يتقاضون أجراً يومياً زهيداً لا يتجاوز الدولار الواحد. أما الحادثة الثانية فكانت عبارة عن إشتعال حريق ضخم في أحد المصانع تسبب بمقتل ١١٢ شخصاً.

هاتان الحادثتان كشفتنا مدى ضعف معايير السلامة المطبقة وبؤسها في مصانع تدرّ الملايين على أصحابها والمستثمرين فيها والمتعاملين معها عالمياً، مثال سلسلة محال "zara" للأزياء النسائية التي تتعامل مع ٢٥٠ مصنعاً فيها، وشركة H&M التي تتعامل مع ٢٦٠ مصنعاً. إذ لم يكفِ عمّال وعاملات هذه المصانع أن حقوقهم منتهكة لجهة الأجور والإجازات والحوافز، إنما فُرضَ عليهم العمل من دون رحمة لساعات طويلة في ظروف تفتقد الحد الأدنى لمعايير السلامة والأمان.

المصدر: د. عبدالله المدني، الإتحاد، ٢٥ أغسطس ٢٠١٣. (بتصرف)

أجب عن الأسئلة الواردة انطلاقاً من المستندات المرفقة:

أولاً: اختر الإجابة الصحيحة: (أربع علامات)

- |   |  |
|---|--|
| <p>٣- من المتوقع في خلال الأربعين سنة القادمة أن تتراوح نسبة النمو السكاني ما بين ٠,٠٠٠% إلى ٠,٩٩% في كل من:</p> <p>أ- دول أفريقيا الشمالية و دول آسيا الشرقية.</p> <p>ب- دول القارة الأميركية و دول الساحل الشرقي للقارة الأفريقية.</p> <p>ج- دول المغرب العربي و معظم دول القارة الأميركية.</p> <p>د - دول أفريقيا الجنوبية الشرقية و دول أفريقيا الشمالية.</p> <p>هـ- دول آسيا الشمالية و دول قارة اميركا الشمالية</p>               | <p>١- تتراوح نسبة النمو السكاني المتوقعة لدول عالم الشمال ما بين :</p> <p>أ- ٠,٥١% وأقل، إلى ٠,٩٩%.</p> <p>ب- ٠,٥١% وأقل، إلى ١%.</p> <p>ج- ٠,٥٠% إلى ٠,٠١%.</p> <p>د- ٠,٠٠% إلى ٢% وأكثر.</p> <p>هـ- ٠,٠٠% إلى ٠,٩٩%.</p>   |
| <p>٤- إن الشركات متعددة الجنسيات المستثمرة في دول الجنوب :</p> <p>أ- تطبق الشروط الصحية والاجتماعية في هذه الدول.</p> <p>ب- تطبق الحد الأدنى من معايير السلامة للعمال إلا أنها تقدّم لهم أجوراً مرتفعة .</p> <p>ج- تفرض العمل لساعات محدّدة مع تطبيق معايير السلامة العامة للعمال.</p> <p>د- تفرض العمل لساعات طويلة من دون الالتزام بتطبيق الشروط الصحية والاجتماعية للعمال.</p> <p>هـ- تفرض العمل لساعات تتناسب مع الأجر اليومي .</p> | <p>٢- دولتان من قارة أفريقيا الغربية، تطلّان على المحيط الأطلسي، ويتراوح معدّل النمو السكاني فيهما بين ١,٠٠% إلى ١,٩٩% :</p> <p>أ- زمبابواي ونيجيريا.</p> <p>ب- ناميبيا وأنغولا.</p> <p>ج- المغرب ومالي.</p> <p>د- موريتانيا وأثيوبيا.</p> <p>هـ- نيجيريا وجمهورية جنوب أفريقيا.</p> |

ثانياً: إنسخ الجدول الآتي واربط بخط كلمات العمود الأول بما يناسبها من عبارات العمود الثاني: (أربع علامات)

- تضم الدولة الأكثر إنتاجاً للنفط في العالم.
- تسجل توازناً كبيراً بين دولها من حيث نسب معدلات النمو السكانية.
- تضم الدولة الأكثر تصديراً للنفط في العالم.
- تسجل تفاوتاً كبيراً جداً بين دولها من حيث نسب معدلات النمو السكاني فيها.
- تحتاج إلى عدد ضخم من المصانع التي تتعامل معها.
- عالم الشمال/ الدول المتقدمة
- شركات متعددة الجنسيات
- عالم الجنوب/ الدول النامية

ثالثاً: أجب بوضع إشارة (✓) أو (X) ثم صحح الخطأ. (أربع علامات)

- ١- تسجل الصومال نمواً سكانياً متوسطاً يتراوح ما بين ١% و ١,٩٩%.
- ٢- تسجل القارة الأفريقية نسب معدلات نمو سكانية الأكثر انخفاضاً في العالم.
- ٣- تصدر الدول الخليجية العربية معظم إنتاجها النفطي مثل الإمارات والكويت.
- ٤- إن تجارة صناعة الملابس بين بنغلادش والدول الصناعية محدودة جداً.

رابعاً:

استنتج سبباً من المستندين (الأول والثالث)، واحد ديمغرافي والآخر اقتصادي، يدفعان دول الجنوب بشكل عام وبنغلادش بشكل خاص إلى قبول استثمار شركات صناعة الملابس في هذه الدول. (ثلاث علامات)

خامساً:


استنتج واقع الصين والولايات المتحدة بتجارة النفط عالمياً، من خلال مقارنة قائمتي الدول الأكثر إنتاجاً والأكثر تصديراً للنفط، معللاً إجابتك بسبب واحد لهذا الواقع. (ثلاث علامات)

سادساً:

بين أثرين سلبيين عالميين للشركات متعددة الجنسيات على دول عالم الجنوب، من خلال مقارنة أسعار الألبسة في المحلات التجارية العالمية (المذكورة في المستند الثالث) مع أجر العمال البنغلادشيين في هذه المصانع. (ثلاث علامات)

سابعاً:

تسجل معظم دول الجنوب معدلات نمو سكانية مرتفعة حالياً تنعكس نتائجها على الوضع الاقتصادي والاجتماعي لبلدانها، ما يترتب عليها اتخاذ إجراءات عديدة لمواجهة آثار هذا النمو. انطلاقاً من المستندات المرفقة والمصطلحات الآتية: "الاستثمار الإنتاجي- الأعداد السكانية المتزايدة- فرص العمل- النمو الاقتصادي، ومن معلوماتك عالج الموضوع أعلاه (بمعدل ٩٠ كلمة)، مفسراً تأثير هذا النمو بفكرتين في الوضع الاقتصادي والاجتماعي، ومقترحاً حلاً قد تعتمد عليه دول الجنوب للحد من هذه الانعكاسات .

<p>المادة: الجغرافيا الشهادة: الثانوية العامة الفرع: العلوم العامة/ علوم الحياة والاجتماع والاقتصاد نموذج رقم - 1 - المدة : ساعة واحدة</p>	<p>الهيئة الأكاديمية المشتركة قسم : الاجتماعيات</p>	 <p>المركز العلمي للبحوث والأبحاث</p>
--	---	--

أسس التصحيح (تراعي تعليق الدروس والتوصيف المعدل للعام الدراسي ٢٠١٦-٢٠١٧ وحتى صدور المناهج المطورة)

الملاحظات	العلامة	الإجابات المقترحة	السؤال
<p>- علامة واحدة لكل إجابة صحيحة.</p>	<p>أربع علامات</p>	<p>أ- من 0,51 - % وأقل، الى 0,99% . ب- ناميبيا وأنغولا . ج- دول المغرب العربي و معظم دول القارة الأميركية. د- تفرض العمل لساعات طويلة من دون الالتزام بتطبيق الشروط الصحية والاجتماعية للعمال.</p>	<p>أولاً:</p>
<p>- علامة واحدة لكل إجابة صحيحة. - لا يخصص للمشتت أية علامة.</p>	<p>أربع علامات</p>	<p>الدول المتقدمة</p> <ul style="list-style-type: none"> <li>تضم الدولة الأكثر إنتاجاً للنّفط في العالم.</li> <li>تسجل توازناً كبيراً بين دولها من حيث نسب معدلات النمو السكانية.</li> <li>تضم الدولة الأكثر تصديراً للنّفط في العالم.</li> <li>تسجل تفاوتاً كبيراً جداً بين دولها من حيث نسب معدلات النمو السكاني فيها.</li> <li>شركات متعددة الجنسيات تحتاج إلى عدد ضخم من المصانع التي تتعامل معها.</li> </ul>	<p>ثانياً:</p>
<p>- علامة واحدة لكل إجابة صحيحة. - علامة للاجابة الصحيحة. - نصف علامة لوضع إشارة (X)، في حال لم تذكر عبارة خطأ، وصحح المتعلم الفكرة تحسب كامل العلامة المخصصة. - تعتبر صحيحة كل اجابة اخرى منطقية.</p>	<p>أربع علامات</p>	<p>١- تسجل الصومال نموًا سكانيًا مرتفعًا يبلغ ٢% وأكثر. ٢- تسجل القارة الأفريقية نسب معدلات نمو سكانية الأكثر ارتفاعاً في العالم. ٣- ✓ ٤- إن العلاقة التجارية بين بنغلادش والدول الصناعية مزدهرة (نشطة، مرتفعة (...)) .</p>	<p>ثالثاً :</p>
<p>- علامتان للإجابة عن السبب الديمغرافي من المستند الأول. - خصّصت علامتان للسبب الديمغرافي لأنه يتضمن استنتاجاً وإعادة صياغة وتوضيح مناسب . - علامة للإجابة عن السبب الاقتصادي. - خصّصت علامة واحدة للسبب</p>	<p>ثلاث علامات</p>	<p>سببان يُدفعان دول الجنوب بشكل عام وبنغلادش بشكل خاص الى قبول استثمار شركات صناعة الملابس :</p> <p>المستند الأول: (سبب ديمغرافي) ارتفاع نسبة النمو السكاني وبالتالي ارتفاع أعداد اليد العاملة ( العددية ، الرخيصة ) الجاذبة لاستثمار شركات صناعة الملابس، ما يدفع بنغلادش لقبول هذه الاستثمارات لتوفير الكثير من فرص العمل وللمساهمة في تخفيف حدة مشكلة البطالة لديها.</p>	<p>رابعاً:</p>

<p>الاقتصادي، فالإجابة من المستند الثالث مع إعادة صياغتها من قبل المتعلمين دون التغيير في مضمونها العلمي.</p>		<p><b>المستند الثالث:</b> (سبب اقتصادي) يشكل قطاع صناعة الملابس وتصديره في بنغلادش القطاع الاقتصادي الأكبر في البلاد لجهة ما يُدره من عائدات والذي يصل إلى نحو ٨٠ % من العائدات الإجمالية للصادرات. ( يجب على المتعلم إعادة صياغة هذه العبارة).</p>	
<p>- علامة للواقع ( أي للمقارنة). - علامتان للسبب الموضح. (علامة لذكر السبب، وعلامة للتوضيح المناسب). - يجب أن يتوافق السبب المذكور للدولتين معاً.</p>	<p><b>ثلاث علامات</b></p>	<p><b>الواقع:</b> من خلال مقارنة قائمتي الدول الأكثر إنتاجاً والأكثر تصديراً للنظ في العالم يظهر غياب كل من الصين والولايات المتحدة الأميركية في قائمة الدول الأكثر تصديراً للنظ بالرغم من كونهما من الدول الأكثر إنتاجاً.</p> <p><b>السبب:</b> تعتبر الصين والولايات المتحدة من الدول الصناعية الكبرى في العالم نظراً لضخامة إنتاجها الصناعي ولحاجاتها المتزايدة من النفط في مختلف الميادين ( التجارية، الصناعية، وسائل النقل.. ) ، فيعمدان إلى استهلاك معظم أو غالبية النفط الذي ينتجونه وحتى أنهم قد يعتمدون في بعض السنوات إلى استيراد حاجاتهم المتبقية منه .</p>	<p><b>خامساً:</b></p>
<p>- علامة على المقارنة، وعلامتان للأثرين. - مطلوب تحديد أثرين: نصف علامة في حال ذكر الأثر فقط، ونصف علامة لتوضيحه.</p>	<p><b>ثلاث علامات</b></p>	<p><b>المقارنة:</b> من خلال مقارنة أسعار البسة المحلات التجارية مع أجور العمال يتبين حصول العمال على أجر زهيد جداً لا يقارن بالأسعار المرتفعة للسلع المتوافرة في هذه المحلات.</p> <p><b>أثران على عالم الجنوب:</b> زيادة فقر عالم الجنوب بحصول موظفيها على أدنى أجر لقاء العمل في هذه الشركات/ صعوبة واستحالة شراء سكان الجنوب الفقير لسلع الشركات العالمية بفعل التفاوت الحاد بين أجور العمال المنخفض وسعر السلع المرتفع/ إن التفاوت الحاد بين سعر الالبسة وأجور العمال يكسب الشركات أموالاً ضخمة تستخدمها لإخضاع الدول الفقيرة لمختلف أشكال التبعية السياسية والاقتصادية/ كذلك الهيمنة على حكومات دول الجنوب/ انخفاض مستوى المعيشة/ إنتهاك حقوق عمال الجنوب/ ...</p>	<p><b>سادساً:</b></p>
<p><b>المقدمة:</b> عبارة عن تمهيد مختصر + إشكاليين مطروحين. - علامة للمقدمة: نصف علامة للتمهيد ونصف علامة للإشكاليين الصحيحين. <b>التوسيع:</b> مطلوب: تحديد فكرتين +الحل+فكرة من المستند. - فكرتان/ فكرة اقتصادية، وفكرة اجتماعية (أربع علامات /علامتان لكل فكرة موضحة، شرط استعمال</p>	<p><b>علامة للمقدمة</b>  <b>ست علامات للتوسيع</b></p>	<p><b>المقدمة:</b> تتميز معظم دول الجنوب بتزايد معدلات النمو السكاني نتيجة لارتفاع معدلات الولادات فيها ما يفرض آثاراً متعددة على مختلف الصعد. فهل يؤثر النمو السكاني المرتفع في هذه الدول في تزايد حدة المشكلات الاقتصادية والاجتماعية لبلدانها؟ وما هو الاجراء الذي قد تتخذه دول الجنوب للحد من هذه المشكلات؟</p> <p><b>التوسيع:</b> إن تفوق النمو السكاني في الجنوب بمعدلات تفوق ٢ % في العديد من دول القارة الأفريقية والاسيوية(المستند رقم ١) يؤثر بشكل سلبي في النمو الاقتصادي لهذه الدول، وذلك بسبب ارتفاع معدلات النمو السكاني عن النمو الاقتصادي، ما يدفع حكومات هذه الدول الى زيادة إنفاقها لتأمين الحاجات الأساسية للأعداد السكانية المتزايدة، ما يشكل عائقاً أمام الاستثمار الإنتاجي لهذه الدول والقضاء على جهود التنمية فيها، وهذا ما</p>	<p><b>سابعاً :</b></p>

<p>المصطلحات المرفقة، وتحسم ربع علامة عن كل مصطلح غير مستعمل.</p> <p>- استعمال فكرة من المستند بشكل يتناسب مع الموضوع (علامة).</p> <p>- يجب الإشارة الواضحة إلى الفكرة المستعملة عبر تحديد رقم المستند.</p> <p>- الحل المقترح: (علامة)، نصف علامة في حال ذكر الحل فقط/ ونصف علامة لتوضيحه.</p> <p>- يعتبر أي حل آخر مقترح من قبل المتعلم صحيحاً، شرط أن يكون منطقيًا .</p> <p>- لا يفترض أن يضع المتعلم عبارة المقدمة والتوسيع والخاتمة، بل يكفي بتقسيم الموضوع شكليًا.</p> <p><b>الخاتمة: الإجابة عن الإشكالية.</b></p> <p>- علامة واحدة للإجابة عن الإشكالية .</p> <p><b>الشكل:</b></p> <p>- استعمال مصطلحات ومفاهيم (نصف علامة).</p> <p>- الالتزام بشروط كتابة الموضوع (نصف علامة).</p>	<p><b>علامة للخاتمة</b></p> <p><b>علامة للشكل</b></p>	<p>يؤدي الى زيادة مشكلة البطالة جرّاء تزايد عدد العاطلين عن العمل بشكل يفوق فرص العمل المتاحة. لذلك عمدت العديد من دول الجنوب الى تطبيق سياسة تحديد النسل للحدّ من الولادات، مع فرض عقوبات بحق المخالفين.</p> <p><b>إجابات أخرى مقترحة:</b></p> <p><b>آثار اقتصادية:</b> انخفاض نصيب الفرد من الناتج المحلي / تراجع الدّورة الاقتصادية لاقتصار السكان على شراء حاجاتهم الأساسية/ زيادة إنفاق الحكومات والأسر نتيجة ارتفاع نسبة المستهلكين غير المنتجين ما يرتّب أعباء اقتصادية متزايدة....</p> <p><b>آثار اجتماعية:</b> ارتفاع الأمية ما يؤدي إلى قلة اليد العاملة الكفوءة /تدني مستوى المعيشة / انخفاض المستوى الصحي (انتشار الأمراض) وتدني مستوى التّقديمات الصحيّة والطبيّة (...).</p> <p><b>حلول أخرى مقترحة:</b> زيادة استثمار هذه الدّول في مختلف القطاعات لتوظيف اليد العاملة / التشجيع على الهجرة من دول الجنوب إلى دول الشمال / تقديم تسهيلات اقتصادية (إعفاء من الضرائب والرسوم..) لتشجيع الدول المستثمرة على توظيف أموالها في هذه الدّول بهدف تأمين فرص العمل/ إعطاء مساعداً شهرية عينية للعائلات التي تحدّ من الإنجاب / إقامة حملات توعية لتنظيم الأسرة / ...</p> <p><b>أفكار أخرى حول استعمال المستند :</b> تعتبر بنغلادش الدولة ذات الكثافة السكّانية الأعلى في العالم حيث يتقاضى عمّالها أجرًا يوميًا زهيدًا لا يتجاوز الدّولار الواحد( المستند رقم ٣).</p> <p><b>الخاتمة:</b></p> <p>لذلك يعتبر النموّ السكاني المرتفع أحد العوامل الأساسية المؤدية إلى تزايد حدّة المشكلات التي تعاني منها معظم دول الجنوب النامي.</p> <p><b>الشكل:</b> استعمال مصطلحات ومفاهيم والالتزام بشروط كتابة الموضوع</p>
--	---	--